



## Pracovný list: ČO PREZRADIA NOHY VTÁKOV?

1. Koľko prstov majú na nohe vtáky? Zakrúžkuj odpoveď, ktorú považuješ za najsprávnejšiu a doplň ju vysvetlením.

5 prstov

4 prsty

3 prsty

2 prsty

1 prst

vtáky nemajú prsty

.....

.....

.....

.....



.....

.....

.....

.....

2. Vyber obrázok so správne nakresleným vtákom a k nesprávnemu obrázku napíš, čo je na ňom zle!




.....


.....



**3. Vieš, ktorý z našich vtákov používa nohy iba na zavesenie sa na zvislý povrch? Nakresli ho a nakresli aj usporiadanie prstov na jeho nohe.**



**4. Vieš, čo je to vratiprst? Poznáš nejaké vtáky, ktoré ho majú? Ak áno, nakresli ich.**





5. Poznáš aj iné vtáky s dlhými nohami, ako sú uvedené príklady v týchto listoch? Ak áno, nakresli ich a napíš, ako sa volajú.

6. Poznáš nejaké vtáky, ktoré majú plávacie blany a nie sú tu spomenuté? Ak áno, nakresli ich.